

OLIMPIADA ȘCOLARĂ DE GEOGRAFIE
ETAPA JUDEȚEANĂ/A SECTOARELOR MUNICIPIULUI BUCUREȘTI
3 martie 2026

CLASA a X-a

- **Toate subiectele sunt obligatorii. Se acordă 10 puncte din oficiu.**
- **Timpul de lucru efectiv este de 3 ore.**
-

Subiectul I (20 puncte)

Scrieți, pe foaia de concurs, litera corespunzătoare răspunsului corect pentru fiecare dintre afirmațiile de mai jos:

1. Religia budistă este specifică pentru populația
a. coptă b. sikh c. thai d. valonă
2. Fenomenul migrației oamenilor cu studii superioare și o ridicată pregătire științifică se numește:
a. brain attack b. brain training c. brain drain d. brain work
3. Limba portugheză este o limbă oficială în statul:
a. Barbados b. Mozambic c. Tunisia d. Uruguay
4. Capitala statului Côte d'Ivoire este orașul:
a. Freetown b. Lilongwe c. Port-au-Prince d. Yamoussoukro
5. Un teritoriu dependent, insular, administrat de Franța este:
a. Feroe b. Gibraltar c. Guam d. Tubuai
6. Barriada reprezintă un cartier situat la periferia orașului:
a. Bogota b. Lagos c. Mumbai d. Rio de Janeiro
7. Populația ainoidă (ainu) trăiește în insula:
a. Hokkaido b. Kalimantan c. Sri Lanka d. Tasmania
8. Czestochowa este un loc de pelerinaj situat în:
a. Cehia b. Polonia c. Slovacia d. Ungaria
9. O capitală „introdusă” este:
a. Berlin b. Cairo c. Damasc d. Islamabad
10. Satul de tip nugas, cu cătune formate din 4-5 case, este specific văii fluviului:
a. Niger b. Nil c. Orange d. Zambezi

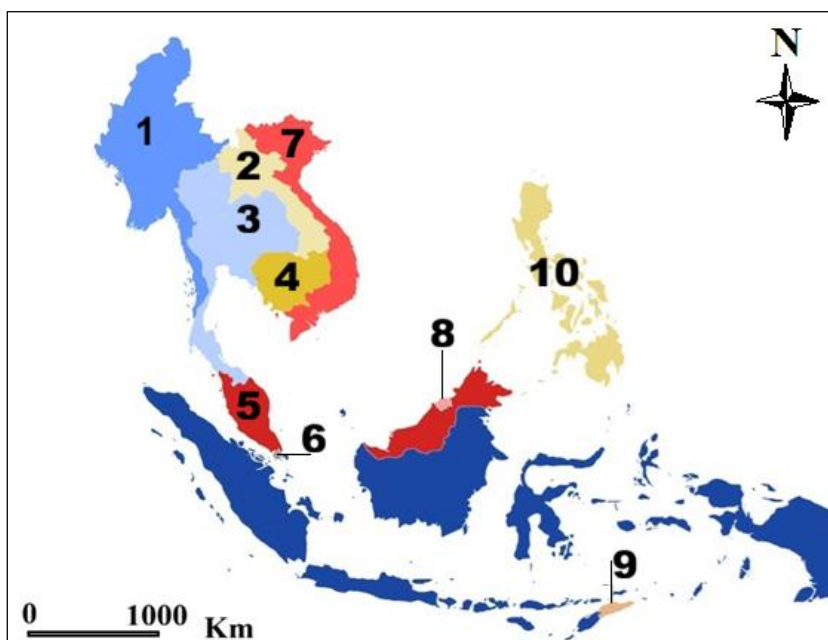
20 puncte

Subiectul al II-lea (18 puncte)

Pe fragmentul de hartă alăturat sunt marcate cu numere de la 1 la 10 state din componența unei asociații/grupări de state fondată în anul 1967.

Scrieți, pe foia de concurs:

1. denumirea asociației/grupării de state reprezentate pe fragmentul de hartă, precum și scopul creării acesteia;
2. numele statelor marcate, pe fragmentul de hartă, cu numerele 1, 3, 5 și 8;
3. denumirea unui stat cu drepturi depline din asociația/gruparea de state reprezentată pe fragmentul de hartă, altul decât cele marcate



Sursa: prelucrare după - <https://www.consilium.europa.eu/ro/infographics/>

cu numere pe fragmentul de hartă;

4. numele statului marcat pe hartă cu numărul **9**, care a aderat la asociația/gruparea de state reprezentată pe fragmentul de hartă, în anul 2025;
5. denumirea a două familii lingvistice specifice statelor reprezentate pe fragmentul de hartă;
6. numele statelor, dintre cele marcate pe fragmentul de hartă, a căror formă de guvernământ este monarhia;
7. denumirea strâmtorii la care are acces statul marcat, pe fragmentul de hartă, cu numărul **6**;
8. numele și funcția/tipologia orașelor-capitală din statul marcat, pe fragmentul de hartă, cu numărul **10**;
9. denumirile minorităților din statul marcat, pe fragmentul de hartă, cu numărul **1**, aflate în conflicte etnice.

18 puncte

Subiectul al III-lea (21 puncte)

- A.** Tabelul alăturat prezintă evoluția numerică a populației mondiale între anii 2010-2025.

Evoluția populației mondiale între anii 2010-2025

Ani	Populația (nr. persoane)		
	Populație masculină	Populație feminină	Total
2010	3.533.138.552	3.488.593.596	7.021.732.148
2015	3.761.327.208	3.709.164.663	7.470.491.872
2020	3.969.229.013	3.917.772.279	7.887.001.292
2021	4.002.148.176	3.952.300.215	7.954.448.391
2022	4.035.007.924	3.986.399.268	8.021.407.192
2023	4.069.351.928	4.022.383.002	8.091.734.930
2024	4.103.612.213	4.058.360.359	8.161.972.572
2025	4.137.709.238	4.093.903.832	

Sursa: <https://statisticetimes.com/demographics/world-demographics.php>

Scriveți, pe foaia de concurs:

1. diferența privind populația (nr. persoane) înregistrată între anii 2010 și 2025;
2. ponderea, cu aproximație, a populației masculine din populația totală, în anul 2022 (pot fi considerate datele rotunjite (populație masculină 4,03 mld. loc.; populație feminină 3,98 mld. loc.);
3. anii în care, conform tabelului alăturat, populația mondială a depășit, pentru prima dată, 7,5 mld. loc., respectiv 8,00 mld. loc.;
4. anul în care populația feminină a depășit 4 mld. loc.;
5. două cauze ale creșterii populației mondiale cu câte un miliard (de la 6 la 7 mld. și de la 7 la 8 mld.) în perioade foarte scurte (doar în 11 – 12 ani);
6. numele continentului care deține cca. 60% din populația mondială.

8 puncte

- B.** Afirmatia de mai jos prezintă o caracteristică a populației mondiale.

„Deși populația mondială continuă să crească în cifre absolute, rata de creștere este într-o scădere constantă față de vârful de 2,28% înregistrat în 1963. La nivelul anilor 2025-2026 rata de creștere anuală a populației mondiale este aproximată la 0,84%-0,85%”

Menționați:

1. o cauză a decelerării evoluției numerice a populației mondiale în ultimul deceniu;
2. două exemple de state africane care sunt în a doua fază de „tranziție demografică” (creștere demografică încetinită);
3. trei exemple de state „emergente”, cu spor natural ridicat, situate în Asia.

7 puncte

- C.** Afirmatia de mai jos se referă la situația demografică a Chinei.

„A doua cea mai populată țară a lumii a reușit să evite căderea în <<capcana demografică>>.”

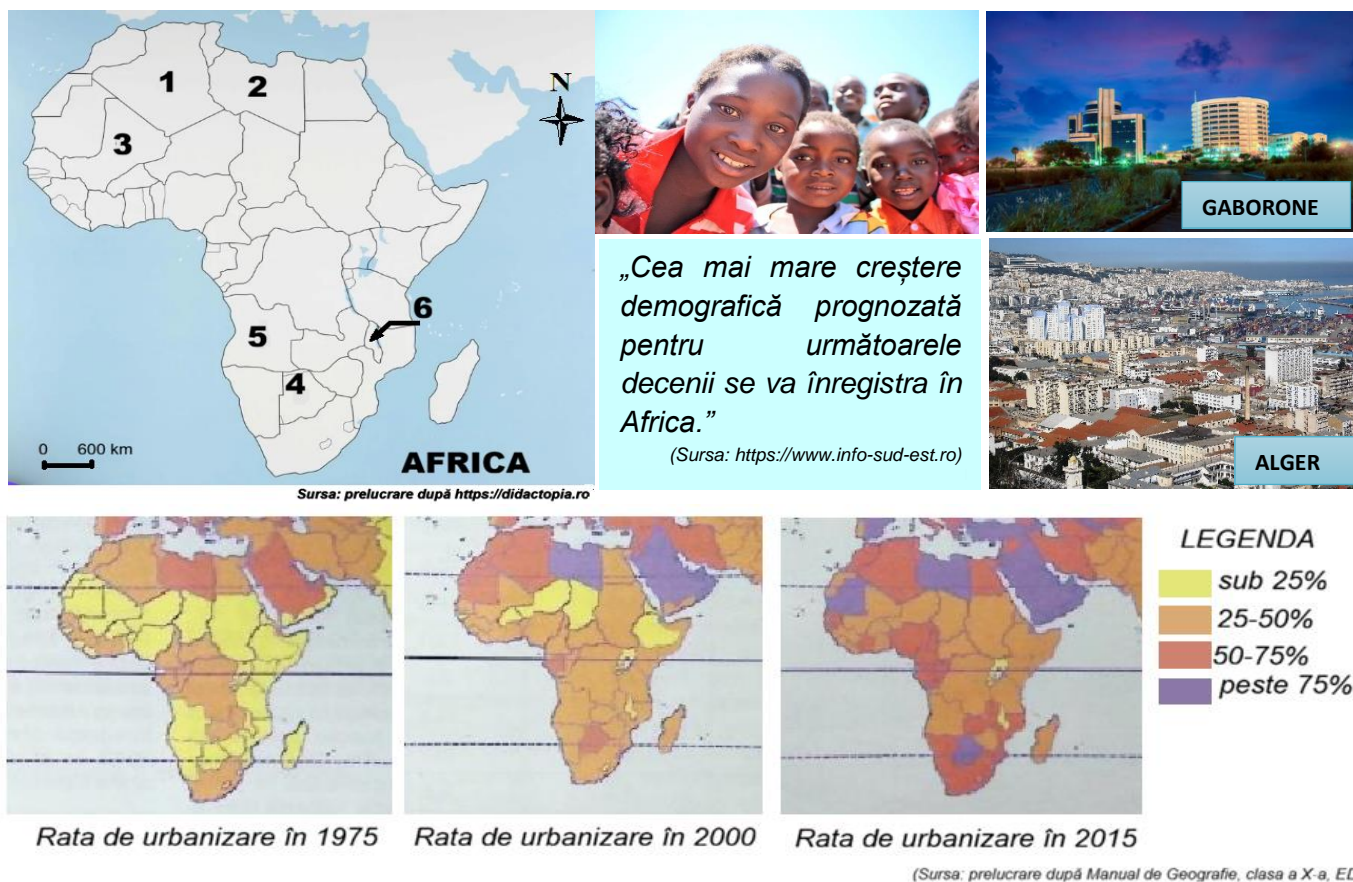
Prezentați:

1. o măsură adoptată de China pentru a evita căderea în această capcană;
2. două trăsături ale populației unui stat aflat în <<capcana demografică>>.

6 puncte

Subiectul al IV-lea (17 puncte)

Reprezentările cartografice, imaginile și infograficul de mai jos fac referire la caracteristici demografice ale Africii.



Utilizând materialele suport de mai sus, **menționați**:

1. două argumente care să susțină afirmația prezentată în infografic;
2. un factor demografic care influențează structura pe grupe de vârstă a populației din statul marcat cu numărul 3, pe harta AFRICA;
3. câte o caracteristică a evoluției ratei de urbanizare în intervalul 1975 – 2015, pentru fiecare dintre statele marcate cu numerele 1, 2 și 5 pe harta AFRICA;
4. numerele care marchează, pe harta AFRICA, statele ale căror orașe – capitală sunt prezentate în imagini;
5. numărul care marchează, pe harta AFRICA, statul în care rata de urbanizare a crescut de la sub 25% la peste 75%, numele statului, precum și un factor determinant al acestei evoluții;
6. numărul care marchează pe harta AFRICA, statul în care rata de urbanizare a fost constantă în intervalul 1975-2015;
7. o asemănare între nordul și sudul Africii și o deosebire între aceste regiuni și centru continentului, privind rata de urbanizare.

17 puncte

Subiectul al V-lea (14 puncte)

Pe fragmentul de hartă de mai jos sunt marcate cu litere de la **a** la **n** megaorașe (orașe cu peste 10 mil. loc.), iar imaginile alăturate prezintă aspecte urbane ale unora dintre acestea.



LONDRA



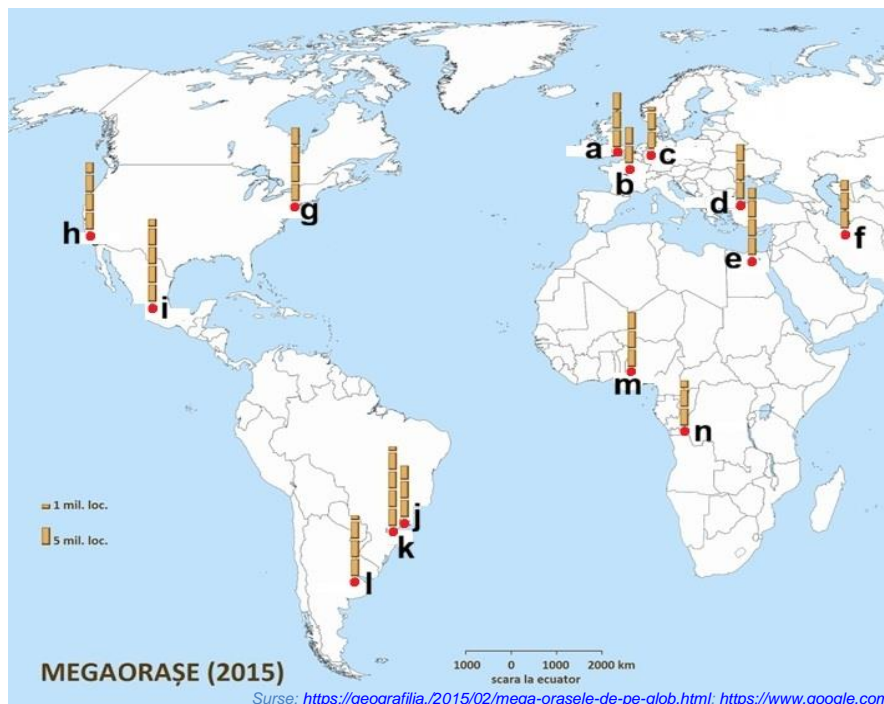
NEW YORK



RIO DE JANEIRO



ISTANBUL



KINSHASA



TEHERAN

Scrieți, pe foaia de concurs:

1. numele megaorașelor – capitală, din imagini, precum și literele care le marchează, pe fragmentul de hartă;
2. literele care marchează, pe fragmentul de hartă, megaorașele care în anul 2015 înregistrau mai mult de 20 mil. loc., precum și denumirile acestora;
3. literele ce marchează, pe fragmentul de hartă, megaorașele ale căror aspecte sunt prezentate în imagini, care îndeplinesc o importantă funcție turistică dar nu sunt orașe-capitală;
4. litera care marchează, pe fragmentul de hartă, cel mai sudic dintre megaorașele cu peste 15 mil. loc. (2015).

14 puncte