

CONCURSUL ȘCOLAR NAȚIONAL DE GEOGRAFIE

„TERRA - MICA OLIMPIADĂ DE GEOGRAFIE”

ETAPA JUDEȚEANĂ/A SECTOARELOR MUNICIPIULUI BUCUREȘTI

Ediția a XIII-a, 28 martie 2026

VI. OSZTÁLY



I. Tétel

(18 pont)

A. Írd le a versenylapra a helyes válasz betűjelét az alábbi állítások mindegyikére:

1. Az a hajós, aki az első olyan expedíciót vezette, amely megkerülte a Földet, és ezzel bizonyította a Föld gömb alakját:

- a. Kolumbusz Kristóf b. James Cook c. Vasco da Gama d. Fernando Magellán

2. Egy ország, amelynek két fővárosa van:

- a. Bolívia b. Kína c. Etiópia d. Lengyelország

3. Gazdasági ágazat (szektor), amely olyan tevékenységeket foglal magába, mint a kereskedelem, idegenforgalom (turizmus) és szállítás:

- a. első (primér) szektor b. második (szekundér) szektor
c. harmadik (tercier) szektor d. negyedik (kvaterner) szektor

4. Az a korfa/korpiramis, amelynek alapja nagyon széles és a csúcs felé fokozatosan keskenyedek, azt jelzi, hogy:

- a. a fiatal népesség aránya magas, az idős népesség aránya pedig alacsony;
b. az idős népesség aránya magas, a fiatal népesség aránya pedig alacsony;
c. a felnőtt népesség aránya magas, a fiatal népesség aránya pedig alacsony;
d. a fiatal és az idős népesség aránya egyaránt magas.

B. Olvasd el figyelmesen az alábbi állításokat, és állapítsd meg, hogy igazak vagy hamisak. Ha az állítás igaz, írd a versenylapra az **I** betűt, ha pedig hamis, írd a **H** betűt a *következő minta szeit: 6-I vagy 6-H.*

- A haszonállattenyésztés a mezőgazdaság azon ága, amely az állatok tenyésztésével foglalkozik.
- A világ politikai térképe a Földön található összes felszíninformát tartalmazza.
- Az ipari forradalom a XVI. században kezdődött Európában, és a gépesített munkáról a kézi munkára való átmenetet jelentette.
- Az ásványvíz- és termálvízforrások megléte kedvez a gyógyturizmus fejlődésének.
- A Zambézi folyón található Viktória-vízesést, David Livingstone fedezte fel.

II. Tétel

(20 de pont)

A. Írd le a versenylapra a helyes választ, amely kiegészíti az alábbi állításokat:

1. A Duna folyam a/az ... -hegységből ered.
2. A XX. században megnyilvánuló földrajzi jelenség, amelynek következtében a Föld népessége rendkívül gyors növekedést mutatott, a következő néven ismert: ...
3. A Roca-fok a/az ...-félsziget nyugati részén található.
4. Az a gazdasági tevékenység, amelynek keretében az áruk és szolgáltatások forgalma megvalósul, és amely kapcsolatot teremt a termelés és a fogyasztás között, a/az...
5. A Pindosz-hegység a/az ... félszigeten található.
6. Lagúnák és limánok a/az ...-tenger partján találhatók.

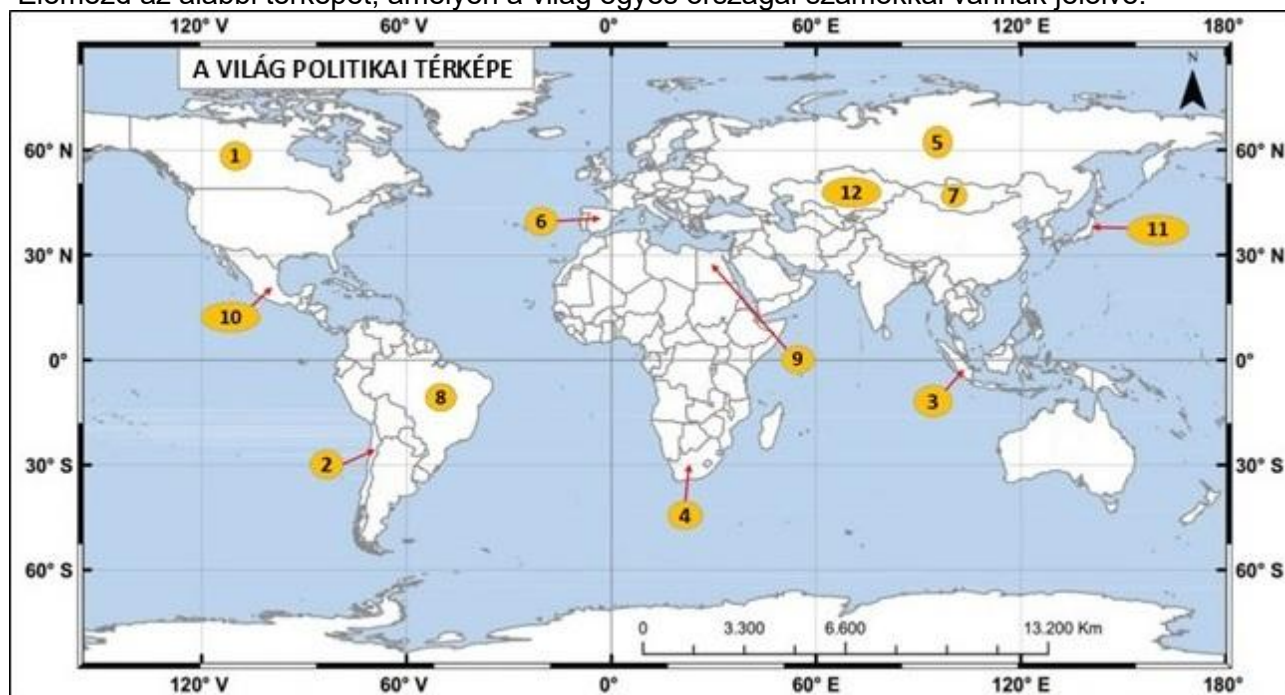
B. Írd le a versenylapra a helyes társítást az **A** oszlopban szereplő nagytáj, a **B** oszlopban szereplő földrajzi fekvése, valamint a **C** oszlopban szereplő, a felszín sajátos jellemzője között, *következő minta szerint: 5 – e – V.*

A - Nagytáj	B – Földrajzi fekvés	C – A felszín sajátos jellemzője
1. Alpok	a. Közép-Európa	I. legnagyobb magasság 1343m
2.Skandináv-hegység	b. Kelet-Európa	II. legnagyobb magasság 2469m
3.Grampian-hegység (Skócia hegyei)	c. Észak-Európa	III. alpi hegyképződés során alakult ki
4. Urál-hegység	d. Nyugat-Európa	IV. herciniai/variszkuszi hegyképződés során alakult ki

III. Tétel

(17 pont)

Elemezd az alábbi térképet, amelyen a világ egyes országai számokkal vannak jelölve.



Írd le a versenylapra, a válaszokat a következő feladatokra.

Térkép forrása: <https://manuale.edu.ro/>

A. Írd le/írj:

1. az 1, 2, 6 és 12-es számokkal jelölt országok nevét;
2. egy-egy 10 millió fő feletti városi agglomeráció nevét, a 3, 8, 9 és 10-es számokkal jelölt országok mindegyikéből;
3. azt az országot jelölő **számot**, amely egy enklávékkal megszakított területű állam;
4. a 3-as számmal jelölt ország népességének leggyakoribb vallását

B. Mutasd be egy okát az alacsony népsűrűségnek a 7-es számmal jelölt országban.

- C. Számítsd ki a **11-es** számmal jelölt ország természetes szaporodását/szaporulatát, ha tudjuk azt hogy a születési arány (ráta) 6,6‰, az elhalálozási arány(ráta) pedig 12,1‰.
- D. Az alábbi képek különböző országok falusi településeit mutatják be. Írd le a helyes társítást az **A, B, C, D** betűkkel jelölt falvak és azok országai között ahol található (az ország száma a térképről), a következő *minta szerint*: **E – 13**.



IV. Tétel

(23 pont)

Az alábbi műholdkép az európai földrész egy részét ábrázolja. A képen **1, 2, 3** és **4-es** számokkal a partvonal és annak tagoltságai, **5-ös** és **6-os** számokkal tengerek, **7-es** és **8-as** számokkal városok, valamint az **A-tól H-ig** tartó betűkkel nagytájak/domborzati egységek vannak jelölve.



Sursa: <https://www.mapsland.com>

- A. Írd le a versenylapra a válaszokat a következő követelményekre:
- az **1-es** és **2-es** számokkal jelölt tengerszorosok neve, valamint a két tengerszoros között elhelyezkedő tenger neve;
 - a **3-as** számmal jelölt tengerszoros neve;
 - az **5-ös** és **6-os** számokkal jelölt tengerek neve;
 - a **4-es** számmal jelölt sziget neve;
 - annak a meleg és száraz szélnek a neve, amely Észak-Afrika felől fúj és amelynek hatása érezhető azokon a félszigeteken, ahol a **D** és **E** betűkkel jelölt nagytájak találhatóak;
 - Az **A, B, C** és **D** betűkkel jelölt nagytájakra vonatkozóan írd le/írd:
 - a négy nagytáj közös domborzati szintjét;
 - a négy nagytáj kialakulásának módját, valamint a hegyképződési ciklust (orogenezist) amely során ezek létrejöttek;
 - egy vulkáni tó nevét, amely a **D** betűvel jelölt nagytájban található.
 - Az **F, G** és **H** betűkkel jelölt nagytájakra vonatkozóan írd le/írd:

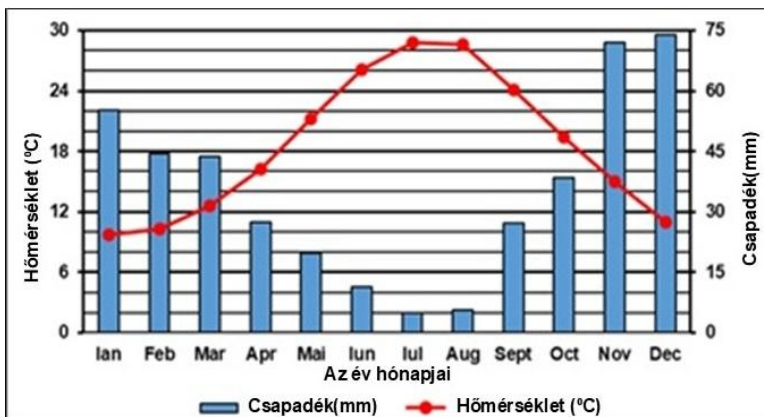
- a három nagytáj közös domborzati szintjét;
- a három nagytáj kialakulási módját;
- a **G** betűvel jelölt nagytáj esetében az éghajlattípust és az uralkodó növényzet típusát;
- a **H** betűvel jelölt nagytáj esetében egy talajosztályt vagy talajtípust.
- az **F** betűvel jelölt nagytáját átszelő folyó nevét.

B. Az alábbi grafikon egy európai város meteorológiai állomásán mért havi középhőmérsékletet és csapadékmennyiséget mutatja.

Írd le:

- a legnagyobb havi középhőmérséklet értékét, valamint azt a hónapot, amikor ezt mérték;
- a legnagyobb havi átlagos csapadékmennyiség értékét, valamint azt a hónapot, amikor ezt mérték;
- a fenti műholdképen jelölt város számát, ahol ez a meteorológiai állomás található.


A grafikon forrása: <https://manuale.edu.ro/>



V. Tétel

(12 pont)

Elemezd az alábbi képeket, amelyek különböző típusú erőműveket mutatnak be.



Írd le/írd:

- minden egyes, **A**, **B**, **C**, **D** és **E** betűvel jelölt erőmű esetében a felhasznált természeti erőforrást, a következő minta szerint: **F – biomassza**;
- azt a gazdasági ágazatot (szektort), amelybe a képeken bemutatott villamosenergia-termelés tartozik;
- a **B** betűvel jelölt erőmű villamosenergia-termelésének egy előnyét és egy hátrányát;
- az **A** betűvel jelölt erőmű villamosenergia-termelésének egy előnyét és egy hátrányát;
- egy romániai nagytáj vagy földrajzi régió nevét, ahol az **E** betűvel jelölt típusú erőművek legnagyobb parkja található;
- egy természeti tényezőt, amely feltételezi vagy korlátozza a **C** betűvel jelölt erőmű elhelyezését/megépítését.

