



EVALUAREA NAȚIONALĂ
DE LA FINALUL CLASEI a IV-a
Anul școlar 2025-2026

Matematică și Științe ale naturii

TEST

Județul/sectorul

Localitatea

Unitatea de învățământ

Numele și prenumele elevei/elevului

.....

Clasa a IV-a



O rumunikano levo (RON) si i oficiàlo monèda andar i Rumunìa.
E love phiren sar monède (kerde andar metàlurǎ) vaj sar banknòte (kerde andar plàstiko).

Rezolvisar o tèsto thaj arakhesa maj but informàcie palal i història thaj i valòra amare nationale monedaqe!

1. O lèvo areslǎs oficiàlo monèda and-i Rumunìa and-o berś 1867, kana sas raj o Karol I.
Sar **xulavel pes** o naturàlo gin 1867 and-e mǐje, śela, deśa thaj unitète?

Trujar i trebutni grafèma vaś o laǎho xulavipen e ginesqo. (1p.)



- A. $1 \times 100 + 8 \times 100 + 6 \times 1 + 7$
B. $1 \times 1000 + 8 \times 100 + 6 \times 10 + 7$
C. $1 \times 1000 + 8 \times 100 + 6 \times 1 + 7$
D. $1 \times 100 + 8 \times 10 + 6 \times 1 + 7$

Nu se completează de către elev.

Punctaj:		Cod:	
----------	--	------	--

2. E levosqi imàgina, sar animàlo, na si dikhli pa-e rumunikane monède vaj banknòte, tha' si arakhli pa-e amare themesqi stèma.

Andar savi **animalurenqi grùpa** si o lèvo, kana dikhas so xal vov?

Trujar i trebutni grafèma vaś e animalurenqi grùpa andar savi si o lèvo. (1p.)



- A. karnivòro
B. éaralo
C. insektivòro
D. omnivòro

Nu se completează de către elev.

Punctaj:		Cod:	
----------	--	------	--

3. E anglutne rumunikane banknòte sas ankalavde and-o berś 1881.

Savo si o **predecesòro** thaj o **sukcesòro** e naturalone ginesqo 1881?

Trujar i trebutni grafèma vaś o laćho amboldipen. (1p.)



- A. 1880 thaj 1890
- B. 1880 thaj 1881
- C. 1880 thaj 1882
- D. 1881 thaj 1882

Nu se completează de către elev.

Punctaj:		Cod:	
----------	--	------	--

4. Andar savorre love sikavde k-jekh ekspozìcia, oxto deśa si banknòte.

Savi si i **grafikani reprezentàcia** e frakciaqi $\frac{8}{10}$ (oxto riga andar deś)?

Trujar i trebutni grafèma vaś o laćho amboldipen. (1p.)



Nu se completează de către elev.

Punctaj:		Cod:	
----------	--	------	--

5. And-o ber; 1880, sas kerdi i Themutni Bàнка e Rumuniaqi, institùcia savi kerel e rumunikane love (kerel e monède thaj e banknòte).

Rotunźisar, ka-e **mijenqo òrdino**, o naturàlo gin 1883.

Trujar i trebutni grafèma vaś o laćho amboldipen. (1p.)



A. 1000

B. 1800

C. 1900

D. 2000

Nu se completează de către elev.

Punctaj:		Cod:	
----------	--	------	--

- 6. Ordonisar kaθar o maj baro ka-o maj tikno gin** e dine valòre kaj te arakhes o alav-
klidin: o anav vaś i sovnakutni monèda e daćenqi.



I valòra	1100 lei	1012 lei	10198 lei	10001 lei	10009 lei
I trebutni grafèma	O	N	K	S	O

Xramosar, p-o jekhto rëndo, e dine valòre, kaθar i maj bari ka-i maj tikni, thaj, p-o dujto rëndo, e trebutne grafème. (8p.)



Nu se completează de către elev.

Punctaj:		Cod:	
----------	--	------	--

7. I kontabilitèta si jekh zanglipen anda savo kerel pes ginavimata le lovença. O Jonuc si talentime k-i matemàtika, kadà ke vastdel pesqe daja, savi si kontàbila, kaj te kerel matematikane ginavimata.

Vastde le Jonucos kaj te kerel e ginavimata andar o avutno tabèlo. **(10p.)**



	<i>a</i>	O sèmno vaš i matematikani operàcia	<i>b</i>	O rezultàto
A.	342 lei	+	15 626 lei	
B.	37 826 lei	+	12 475 lei	
C.	8 326 lei	-	2 301 lei	
D.	42 056 lei	-	13 957 lei	
E.	10 lei	×	712	
F.	102	×	715 lei	
G.	15 250 lei	:	5	
H.	475 774 lei	:	13	


Ker e ginavimata kathe.

[illegible]

10. Jekh numismàtiko ekspozìcia (vaş purane monède thaj medàlie) si organizisardi and-e duj vitrine, and-i svàko vitrina si po deşuduj kolèkcie. And-i jekhto vitrina si sikavde kolèkcie po duje monedença, haj and-i dujto vitrina sis sikvde kolèkcie po ştare medaliença. Sode **objèktură/ bută** si, and-o totàlo, and-i ekspozìcia?

Rezolvisar i problèma thaj xramosar o amboldipen p-o punktisardo than. **(10p.)**

Ker kathe e problemaqo rezolvisaripen.



.....

Nu se completează de către elev.

Punctaj:		Cod:	
----------	--	------	--

11. Trujar i trebutni grafëma vaś o laćho amboldipen. (1p.)



I fòrma (o kontùro) e banknotaqi kaj si la i valòra 500 lei reprezentisarel ...



- A. jekh rotali linia
- B. jekh vòrta linia
- C. jekh phagli linia
- D. jekh pašvortolin

Nu se completează de către elev.

Punctaj:		Cod:	
----------	--	------	--

12. So **mapipnasqi unitèta**, andar kodola xramosarde maj tele, si maj ttrebutni kaj te sikavel pes o pharipen jekhe banknotaço kaj si la i valòra 5 lei?

Trujar i trebutni grafëma kaj sikavel e maj laćhi mapipnasqi unitèta kaj te mapinel pes jekh banknòta e valoraça 5 lei. (1p.)



- A. o kintàlo
- B. o kilogràmo
- C. o miligràmo
- D. o milimètro

Nu se completează de către elev.

Punctaj:		Cod:	
----------	--	------	--

13. E siklòvne andar i IV-to klàsa participisarde k-jekh projèkto palal e rumunikane lovenqi diversitèta savo inkerdàs kaθar **o palutno dives andar o čhon februàra 2026 zi iz, 19 maj 2026.**

Sode **vaxt** inkerdàs o projèkto?

Trujar i trebutni grafëma vaś o laćho amboldipen. (1p.)



- A. duj čhona thaj deśenă dësa
- C. duj čhona thaj biś dësa

- B. trin čhona thaj jekh dës
- D. śtar čhona bi jekhe dësesqo

Nu se completează de către elev.

Punctaj:		Cod:	
----------	--	------	--

14. I Jùlia kindăs, palal o internèto, jekh insìgna p-i savi si e Rumuniaqo stăqo, vaś savi pokindăs **9 lei** thaj **98 bânură**.
Sode reprezentisarel kadaja sùma sikavdi and-e **bânură**?

Trujar i trebutni grafêma vaś o laĥo amboldipen. (1p.)



- A. 882 bânură
- B. 900 bânură
- C. 998 bânură
- D. 9980 bânură

Nu se completează de către elev.


Punctaj:		Cod:	
----------	--	------	--

15. I jekhto banknòta andar i Evròpa kerdi andar plàstiko inklistăs and-i Rumunià and-o beré 1999, kana sas i totàlo Khamesqi Eklipsa. La sas la dreptungiolàro fòrma, e lunžípnaĥa 143 milimètrură thaj o buxlipen sas 80-e milimetrurenĥa maj tikno.

Ginav o perimètro kadale banknotaĥo. (10 p.)



Xramosar kathe e problemaĥo rezolvisaripen.



Nu se completează de către elev.

Punctaj:		Cod:	
----------	--	------	--

16. Le metaluren andar save si kerde e monède si len maj but **proprietète**.

Xramosar and-e punktisarde thana e laçhe amboldimata. (8 p.)



E metàlurà andar e monède o elektrikano

Jekh monèda savi si çhuvdi ivende p-o kalorifèro/ p-i sòba andar i klàsa

Jekh monèda çhuvdini and-jekh bazino panëça pes .

E zivipnasqo mèdivo anda savo del pes maj dur o ašunipen kerdo duje monedença save malaven pen si


Nu se completează de către elev.

Punctaj:		Cod:	
----------	--	------	--

17. E siklövne andar o primàro siklövipen save line prèmvurà k-jekh konkürso astarde 15 medàlie thaj 6 kùpe, vaş save pokindàs pes and-o totàlo 855 lei, haj e siklövne andar o gimnaziàlo siklövipen astrade 15 medàlie thaj 4 kùpe, vaş save pokindàs pes and-o totàlo 745 lei. Žanindoj ke e siklövne astarde medàlie thaj kùpe sajekhe fàlosqe, arakh o **pokinipen** vaş jekh medàlia thaj o pokinipen vaş jekh kùpa.

Rezolvisar i problèma thaj xramosar o amboldipen p-o punktisardo than. (10 p.)

Ker e problemaqo rezolvisaripen kathe.



Nu se completează de către elev.

Punctaj:		Cod:	
----------	--	------	--

18. Palal nesave procèse, e metàlurà andar e monède nakhen andar diferime transformàcie.

Ker (x) and-o tabèlo vaś i trebutni kasèta. (8p.)



O procèso I transformàcia	I deformàcia	O ruzinisaripen	I solidificàcia	I bilövipen
Jekh metalosqi monèda savi si zoraless tatàrdi nakhel and-o likìdo isipen.				
O metàlo andar jekh monèda savi perel and-jekh bazìno panèça si la jekh loli kolòra.				
Jekh metalosqi monèda kana si zoraless malavdi jekhe ćokanoça bangàrel pes.				
O bilàrdo metàlo andar jekh monèda ćhuvdo and-jekh fòrma thaj śudràrdo, aresel palem jekh solido kòrpo.				

Nu se completează de către elev.

Punctaj:		Cod:	
----------	--	------	--

19. I anglutni kolorime monèda savi akalavdās la I Themutni Rumuniaqi Bànga inklistās and-i dāta 27 oktòbra 2025, kana sas 130 berśa kanaθar bijandilās o poèto Lucian Blaga.

OKTÒBRA 2025						
LUIJNE	MARCINE	TETRADĖNE	ŻOJNE	PARAŚTUJNE	SAVATONE	KURKE
		1	2	3	4	5
6	7	8	9	10	11	12
13	14	15	16	17	18	19
20	21	22	23	24	25	26
27	28	29	30	31		

Anda savo kurkesqo dēs sas inkerdo kadava evenimènto?

Trujar i trebutni grafèma kaj sikavel e kurkesqo dīves kana inkerdās pes o evenimènto. (1p.)

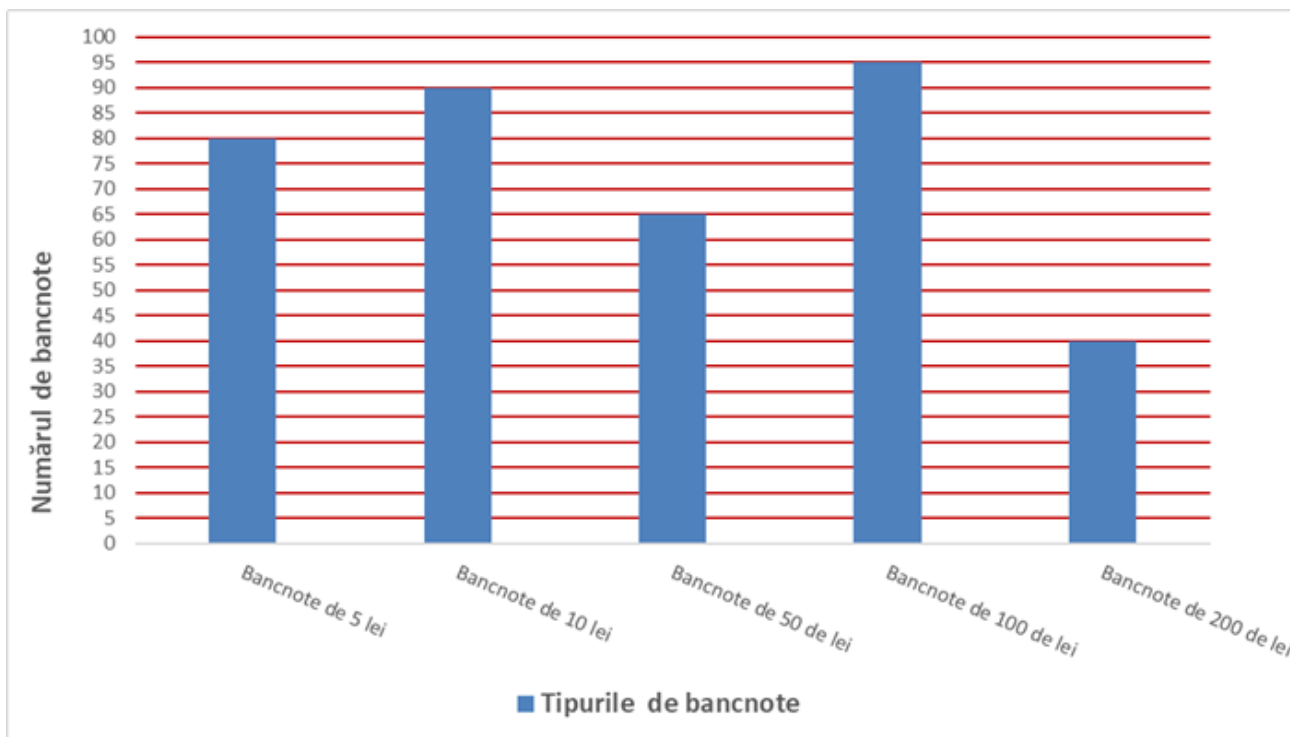


- A. lujne
- B. marcine
- C. paraśtujne
- D. kurke

Nu se completează de către elev.

Punctaj:		Cod:	
----------	--	------	--

20. I kaseria si o biròvo anda savo ingeren pen, inkeren pen thaj den pen e love andar jekh institùcia vaj jekh firma. Analizisar o telutno gràfiko savo prezentisarel panz banknotenqe tìpură, e banknotenqo gin vaş svàko tìpo, save si and-jekh kaseria.



Palal e informàcie andar o gràfiko, xramosar and-o punktisardo than, savo banknotenqo tìpo si and-o maj tikno biparesqo/ bizutesqo gin andar i kaseria. **(10p.)**



Nu se completează de către elev.

Punctaj:		Cod:	
----------	--	------	--

Punctaj total obținut: