



EVALUAREA NAȚIONALĂ
DE LA FINALUL CLASEI a IV-a
Anul școlar 2025-2026

Matematică și Științe ale naturii

TEST

Județul/sectorul

Localitatea

Unitatea de învățământ

Numele și prenumele elevei/elevului

.....

Clasa a IV-a



Il Leu rumeno (abbreviato RON) è la valuta ufficiale della Romania. Il denaro circola sotto forma di monete (di metallo) o banconote (di plastica).

Rispondi al quiz e scopri di più sulla storia e sul valore della nostra valuta nazionale!

1. Il leu divenne la valuta ufficiale della Romania nell'anno 1867, durante il regno di Carol I. Come **si scompone** il numero naturale 1867 in migliaia, centinaia, decine e unità?

Cerchia la lettera corrispondente alla scomposizione corretta di questo numero naturale. **(1p.)**



- A. $1 \times 100 + 8 \times 100 + 6 \times 1 + 7$
- B. $1 \times 1000 + 8 \times 100 + 6 \times 10 + 7$
- C. $1 \times 1000 + 8 \times 100 + 6 \times 1 + 7$
- D. $1 \times 100 + 8 \times 10 + 6 \times 1 + 7$

Nu se completează de către elev.

Punctaj:		Cod:	
----------	--	------	--

2. L'immagine del leu, come animale, non è stampata sulle monete e sulle banconote rumene, ma è presente sullo stemma del nostro paese.

A quale **gruppo di animali** appartiene il leu, in base alle sue abitudini alimentari?

Cerchia la lettera corrispondente al gruppo di animali a cui appartiene il leone. **(1p.)**



- A. carnivori
- B. erbivori
- C. insettivori
- D. onnivori

Nu se completează de către elev.

Punctaj:		Cod:	
----------	--	------	--

3. Le prime banconote rumene furono stampate nell'anno 1881.

Quali sono il predecessore e il successore del numero naturale 1881?

Cerchia la lettera corrispondente alla risposta corretta. (1p.)



A. 1880 e 1890

B. 1880 e 1881

C. 1880 e 1882

D. 1881 e 1882

Nu se completează de către elev.

Punctaj:		Cod:	
----------	--	------	--

4. Del denaro totale esposto in una mostra, otto decimi sono banconote.

Qual è la **rappresentazione grafica** della frazione? $\frac{8}{10}$ (otto parti su dieci)?

Cerchia la lettera corrispondente alla risposta corretta. (1p.)



A.



B.



C.



D.



Nu se completează de către elev.

Punctaj:		Cod:	
----------	--	------	--

5. Nell'anno 1880, venne istituita la Banca Nazionale di Romania, un istituto che emette moneta rumena. (produce le monete e stampa le banconote).

Arrotonda il numero naturale 1880 alla **migliaia**.

Cerchia la lettera corrispondente alla risposta corretta. (1p.)



A. 1000

B. 1800

C. 1900

D. 2000

Nu se completează de către elev.

Punctaj:		Cod:	
----------	--	------	--

6. Disponi i seguenti valori in **ordine decrescente** per scoprire una parola chiave: nome della moneta d'oro dacia.



Valore	1100 lei	1012 lei	10198 lei	10001lei	10009 lei
Lettera corrispondente	O	N	K	S	O

Scrivi, sulla prima riga, i valori dati, in ordine decrescente, e sulla riga successiva, le lettere corrispondenti. **(8p.)**

(8 p.)



Nu se completează de către elev.

Punctaj:		Cod:	
----------	--	------	--

7. La contabilità è una scienza che si occupa di effettuare calcoli con il denaro. Ionuț è talentato per la matematica, quindi aiuta sua madre, una contabile, con i calcoli matematici.

Aiuta Ionuț a eseguire i calcoli matematici riportati nella tabella seguente. (10p.)



	<i>a</i>	Segno dell'operazione matematica	<i>b</i>	Risultato
A.	342 lei	+	15626 lei	
B.	37826 lei	+	12475 lei	
C.	8326 lei	-	2301 lei	
D.	42056 lei	-	13957 lei	
E.	10 lei	×	712	
F.	102	×	715 lei	
G.	15250 lei	:	5	
H.	475774 lei	:	13	

Esegui i calcoli qui.

This image shows a full page of blank graph paper. The grid consists of small, uniform squares formed by thin, light blue lines. There are no margins, text, or other markings on the page.

10. Una mostra numismatica (di monete e medaglie antiche) è organizzata in due vetrine, ogni vetrina con dodici collezioni. Nella prima vetrina sono esposte collezioni con nove monete ciascuna, e nella seconda vetrina sono esposte collezioni con quattro medaglie ciascuna.. Quanti **oggetti** contiene in totale la mostra?

Scrivi qui la risoluzione del problema.



11. Cerchia la lettera corrispondente alla risposta corretta. (1p.)

La forma (contorno) della banconota di 500 lei rappresenta ...



- A. una linea curva
- B. una linea retta
- C. una linea spezzata
- D. un semiretta

Nu se completează de către elev.

Punctaj:		Cod:	
----------	--	------	--

12. Quale **unità di misura**, tra quelle seguenti, è la più adatta per esprimere la massa di una moneta da 5 lei?

Cerchia la lettera corrispondente all'unità di misura usata per esprimere la massa di una moneta da 5 lei. (1p.)



- A. il quintale
- B. il chilogrammo
- C. il milligrammo
- D. il milligrammo

Nu se completează de către elev.

Punctaj:		Cod:	
----------	--	------	--

13. Gli alunni di quarta elementare hanno partecipato a un progetto sulla diversità della moneta rumena, iniziato **l'ultimo giorno di febbraio 2026** e terminato **ieri, 19 maggio 2026**. Quanto **tempo** è durato il progetto?

Cerchia la lettera corrispondente alla risposta corretta. (1p.)



- A. due mesi e diciannove giorni
- C. due mesi e venti giorni

- B. tre mesi e un giorno
- D. quattro mesi senza un giorno

Nu se completează de către elev.

Punctaj:		Cod:	
----------	--	------	--

14. Iulia ha comprato online una spilla con la bandiera rumena, per la quale ha pagato **9 lei e 98 ban.**
Quanti **bani** sono in tutto questa somma?

Cerchia la lettera corrispondente alla risposta corretta. **(1p.)**



- A. 882 bani
- B. 900 bani
- C. 998 bani
- D. 9980 bani


Nu se completează de către elev.

Punctaj:		Cod:	
----------	--	------	--

15. La prima banconota in Europa realizată în plastică a fost emisă din România în 1999, în ocazia unei eclipse totale de Soare. Avea o formă dreptunghiulară, cu o lungime de 143 milimetri și o lățime inferioară de 80 milimetri.

Calculează perimetrul acestei bancnote. **(10p.)**

Scrivi aici soluția problemei.



.....

Nu se completează de către elev.

Punctaj:		Cod:	
----------	--	------	--

16. I metalli con cui sono coniate le monete hanno diverse proprietà.

Completa gli spazi punteggiati con le informazioni corrette. (8p.)



I metalli delle monete conducono elettrica.

Una moneta posizionata d'inverno sul termosifone/sulla stufa della classe si

Una moneta gettata in una vasca piena d'acqua

Il mezzo di propagazione attraverso cui si trasmette il suono prodotto da due monete che si scontrano è

Nu se completează de către elev.


Punctaj:		Cod:	
----------	--	------	--

17. Gli alunni della scuola primaria premiati in un concorso hanno ricevuto 15 medaglie e 6 coppe, per un costo totale di 855 lei, mentre gli alunni della scuola secondaria hanno ricevuto 15 medaglie e 4 coppe, per un costo totale di 745 lei.

Sapendo che gli alunni hanno ricevuto medaglie e coppe dello stesso tipo, determina il **prezzo** di una medaglia e il prezzo di una coppa.

Risolvi il problema e scrivi la risposta sullo spazio tratteggiato. (10p.)

Scrivi qui sotto la risoluzione del problema.



.....

Nu se completează de către elev.

Punctaj:		Cod:	
----------	--	------	--

18. A seguito di determinati processi, i metalli contenuti nelle monete subiscono varie trasformazioni.

Metti una (x) nella casella corrispondente. (8p.)



Trasformazione \ Il processo	Deformazione	Ruggine	Solidificazione	Fusione
Una moneta di metallo riscaldata intensamente si trasforma in liquido.				
Il metallo di una moneta lasciata in una pozza d'acqua diventa rossastro.				
Una moneta di metallo colpita con un martello si piega.				
Il metallo fuso di una moneta, versato in uno stampo e raffreddato, torna allo stato solido.				

Nu se completează de către elev.

Punctaj:		Cod:	
----------	--	------	--

19. La prima moneta colorata emessa dalla Banca Nazionale di Romania è stata lanciata il 27 ottobre 2025, in occasione del 130 anniversario della nascita del poeta Lucian Blaga.

OTTOBRE 2025						
LUNEDÌ	MARTEDÌ	MERCOLEDÌ	GIOVEDÌ	VENERDÌ	SABATO	DOMENIC A
		1	2	3	4	5
6	7	8	9	10	11	12
13	14	15	16	17	18	19
20	21	22	23	24	25	26
27	28	29	30	31		

In quale **giorno** della settimana avrà luogo questo evento?

Cerchia la lettera corrispondente al giorno in cui ha avuto luogo l'evento. (1p.)

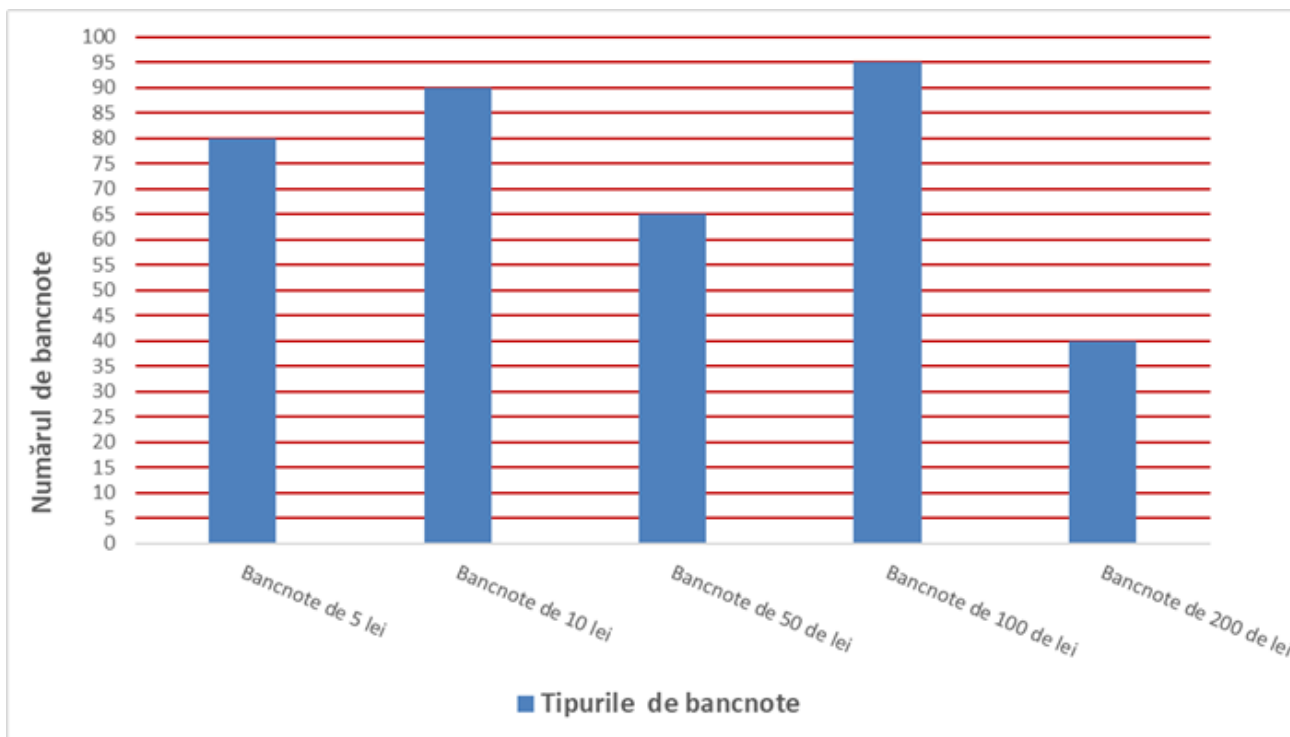


- A. lunedì
- B. martedì
- C. venerdì
- D. domenica

Nu se completează de către elev.

Punctaj:		Cod:	
----------	--	------	--

20. La cassa è l'ufficio in cui il denaro viene ricevuto, custodito e distribuito all'interno di un'istituzione o di un'azienda. Analizza il grafico sottostante che mostra cinque tipi di banconote e il numero di banconote di ciascun tipo presenti nella cassa.



Secondo le informazioni del grafico, scrivi nello spazio tratteggiato quale tipo di banconota si trova nel registratore di cassa nel minor numero dispari di banconote. **(10p.)**



Nu se completează de către elev.

Punctaj:		Cod:	
----------	--	------	--

Punctaj total obținut: