



**EVALUAREA NAȚIONALĂ
LA FINALUL CLASEI a II-a
2026**

MATEMATICĂ ȘI EXPLORAREA MEDIULUI

TEST

Județul / sectorul

Localitatea

Unitatea de învățământ

Numele și prenumele elevei / elevului

.....

Clasa a II-a

ДОМАШНІ УЛЮБЛЕНЦІ

Діти дуже люблять тварин і їм подобається піклуватися про них.

Раду, Марія, Йонуц і Дана, учні 2-го класу, зазвичай ходять до притулку для тварин, щоб допомагати як волонтери. За останній рік вони доглядали за багатьма тваринами і записали їхню кількість у таблицю нижче.

			
собаки	коти	зайці	папуги
176	139	85	206

Щоб якнайкраще доглядати за тваринами притулку, ці четверо дітей вирішили зібрати якомога більше інформації про потреби тварин.

1. Марія розповіла своїм однокласникам, що потрібно тваринам для життя.

Чи знаєш ти, які основні потреби тварин?

(56.)

Обведи літеру правильної відповіді.

- А.** Повітря, тепло і їжа
- Б.** Вода, повітря і їжа
- В.** Вода, повітря і поживний ґрунт
- Г.** Вода, світло і повітря

Не заповнюється учнем

Бали	
Код	

2. Раду порівняв кількість котів із кількістю собак, за якими доглядали діти.

Порівняй і ти!

(56.)

Запиши в клітинці нижче один із знаків <, >, =, щоб співвідношення було

139 176

Не заповнюється учнем

Бали	
Код	

6. Дана обчислила, скільки всього папуг та зайців було у притулку. Вона записала такий вираз: $206 + 85 = 291$.

**Перевір за допомогою оберненої дії, чи правильно вона порахувала. (6б.)
Запиши на відведеному місці перевірку задачі.**





[illegible]

Не заповнюється учнем

Бали	
Код	

7. Одного разу Раду доглядав за 4 зайцями і приніс по 3 морквини кожному. Скільки всього морквин приніс Раду?

Обчисли результат за допомогою додавання однакових доданків. (7б.)
Запиши на відведеному місці розв'язання задачі.

[illegible]

Не заповнюється учнем

Бали	
Код	

(56.)

A. 3
Б. 6
В. 9
Г. 18

Бали	
Код	


Запиши розв'язання задачі на відведеному місці.

[illegible]

Бали	
Код	

10. Четверо дітей створили афіш для притулку, де вони працюють волонтерами.
На яку геометричну фігуру схожа рамка створеного ними афіша? (5б.)
Обведи літеру, що відповідає правильній відповіді.

- А. коло
Б. прямокутник
В. квадрат
Г. трикутник



Не заповнюється учнем

Бали	
Код	

11. Афіша створена дітьми привернула увагу хлопчика, який любить папуг.
У якій частині зображення знаходяться два папуги? (5б.)
Обведи літеру правильній відповіді.

- А. Праворуч внизу
Б. Праворуч вгорі
В. Ліворуч внизу
Г. Ліворуч вгорі







Не заповнюється учнем

Бали	
Код	

12. Діти підготували їжу для тварин. Миски з їжею були розставлені по порядку перед кожною твариною, дотримуючись правила з ряду нижче.

Розглянь правило. Миски яких тварин будуть наступними в ряду? (56.)
Обведи літеру, що відповідає правильній відповіді.



- А. 
- Б. 
- В. 
- Г. 

Не заповнюється учнем

Бали	
Код	

13. Одного дня до притулку потрапило 15 кроликів. Їх розмістили порівну в 5 клітках.

Скільки кроликів було в одній клітці? (56.)
Обведи літеру, що відповідає правильній відповіді.

- А. 3
 Б. 10
 В. 15
 Г. 20

Не заповнюється учнем

Бали	
Код	

14. Дана хотіла дізнатися, на скільки кількість собак більша за кількість котів. Вона записала таку задачу **$176 - 139 = 37$** .

Перевір за допомогою оберненої дії, чи правильно обчислила. (6б.)
Напиши перевірку прикладу у відведеному місці.

[illegible]

Не заповнюється учнем


Бали	
Код	

15. У суботу колеги дітей прийшли до притулку провідати тварин. Вони прибули о 10:30 і провели там 3 години.

О котрій годині вони пішли з притулку? (56.)

Обведи літеру, що відповідає правильній відповіді.

- A.** 13:00
Б. 13:30
В. 14:00
Г. 14:30




Не заповнюється учнем

Бали	
Код	

16. Діти повісили на двері кожної тварини спеціальну табличку.

Напиши у відведеному місці назву геометричної фігури, що відповідає табличці для будиночка кролика. (36.)



Табличка для будиночка кролика має форму _____.

Не заповнюється учнем

Бали	
Код	

17. Раду виміряв відстань від будиночка кролика до будиночка папуг.

Обери одиницю вимірювання, якою Раду виміряв відстань.

(56.)

Обведи літеру, що відповідає правильній відповіді.

А. грам

Б. кілограм

В. літр

Г. метр

Не заповнюється учнем

Бали	
Коду	

18. За згодою батьків, Раду всиновив цуценя і дав йому ім'я Азорел. Хлопчик хоче купити Азорелу кілька речей: **нашийник, повідець, дві миски та ковдру**. Їхні ціни вказані в наступній таблиці.

<i>Предмет</i>	<i>Ціна</i>
Нашийник	5 леїв
Повідець	15 леїв
Миска	13 леїв
Ковдра	34 леїв

Радуга має у скарбничці 80 леїв. Чи вистачить йому грошей щоб купити все, що йому необхідно?

Поясни свою відповідь у відведеному місці. (8б.)

(86.)

[illegible]

Не заповнюється учнем

Бали	
Код	

Загальна кількість отриманих балів	
---------------------------------------	--