



**EVALUAREA NAȚIONALĂ
LA FINALUL CLASEI a II-a
2026**

MATEMATICĂ ȘI EXPLORAREA MEDIULUI

TEST

Județul / sectorul

Localitatea

Unitatea de învățământ

Numele și prenumele elevei / elevului

.....

Clasa a II-a

SPOLOČENSKÉ ZVIERATÁ

Deti majú veľmi rady zvieratá a rady sa o ne starajú.

Radu, Mária, Janko a Dana, žiaci druhého ročníka, zvyknú chodiť do útulku pre zvieratá, aby tam pomáhali ako dobrovoľníci. Za posledný rok sa starali o viaceré zvieratá a ich počet zapísali do tabuľky podobnej tej nižšie.

			
psy	mačky	králiky	papagáje
176	139	85	206

Aby sa mohli čo najlepšie starať o zvieratá z útulku, deti sa rozhodli nazbierať čo najviac informácií o potrebách zvierat.

1. Mária povedala svojim spolužiakom, čo zvieratá potrebujú pre život.

Ty vieš, aké sú základné potreby zvierat?

(5b.)

Zakrúžkuj písmeno zodpovedajúce správnej odpovedi.

- A.vzduch, teplo a potrava
- B.voda, vzduch a potrava
- C.voda, vzduch a výživná pôda
- D.voda, svetlo a vzduch

Nu se completează de către elev

Punctaj	
Cod	

2. Radu porovnal počet mačiek s počtom psov, o ktoré sa deti starali.

Porovnaj aj ty!

(5b.)

Napiš do štvorčeka nižšie, správne znamienko <, >, =.

139 176

Nu se completează de către elev

Punctaj	
Cod	

6. Dana vypočítala, koľko papagájov a králikov bolo spolu v útulku. Zapísala nasledujúci príklad **$206 + 85 = 291$** .

**Prever pomocou opačného výkonu, či to vypočítala správne.
Napiš riešenie nižšie.**

(6b.)

[illegible]





Nu se completează de către elev

Punctaj	
Cod	

7. Jedného dňa sa Radu staral o 4 králiky, preto priniesol pre každého králika po 3 mrkvky. **Koľko mrkiev priniesol Radu spolu?**

**Vypočítaj výsledok opakovaným sčítaním rovnakých členov.
Napiš riešenie nižšie.**

(7b.)

[illegible]

Nu se completează de către elev

Punctaj	
Cod	

- (5b.)**

D. 18

Punctaj	
Cod	

- Napíš riešenie nižšie.**

[illegible]

Punctaj	
Cod	

10. Deti vytvorili plagát pre útulok, v ktorom pomáhajú ako dobrovoľníci.
Ktorému geometrickému útvaru sa podobá plagát?
Zakrúžkuj písmeno zodpovedajúce správnej odpovedi.

(5b.)

- A. kružnici
- B. obdĺžniku
- C. štvorcu
- D. trojuholníku



Nu se completează de către elev

Punctaj	
Cod	

11. Plagát, ktorý vytvorili deti, upútal pozornosť chlapčeka, ktorý má rád papagáje.
V ktorej časti obrázka sa nachádzajú dva papagáje?
Zakrúžkuj písmeno zodpovedajúce správnej odpovedi.

(5b.)

- A. vpravo dole
- B. vpravo hore
- C. vľavo dole
- D. vľavo hore



Nu se completează de către elev









Punctaj	
Cod	

12. Deti pripravili potravu pre zvieratá. Misky s jedlom boli usporiadané v poradí pred každým zvieratom podľa pravidla ako v nasledujúcom rade.

Všimni si pravidlo. Misky ktorých zvierat nasledujú v rade?
Zakrúžkuj písmeno zodpovedajúce správnej odpovedi.

(5b.)



- A.  
- B.  
- C.  
- D.  

Nu se completează de către elev

Punctaj	
Cod	

13. Jedného dňa prišlo do útulku 15 králikov. Boli rovnako rozdelené do 5 kliebok.

Koľko králikov bolo v jednej kliebke?

(5b.)

Zakrúžkuj písmeno zodpovedajúce správnej odpovedi.

- A. 3
 B. 10
 C. 15
 D. 20

Nu se completează de către elev

Punctaj	
Cod	

14. Dana chcela zistiť, o koľko je počet psov väčší ako počet mačiek. Napísala nasledujúci príklad **$176 - 139 = 37$** .

**Prever pomocou opačného výkonu, či to vypočítala správne.
Napiš riešenie nižšie.**

(6b.)

[illegible]

Nu se completează de către elev

Punctaj	
Cod	


15. V sobotu prišli spolužiaci týchto štyroch detí do útulku pozrieť si zvieratá. Prišli o 10:30 a boli tam 3 hodiny.

O koľkej odišli z útulku?

(5b.)

Zakrúžkuj písmeno zodpovedajúce správnej odpovedi.

- A.** o 13:00
B. o 13:30
C. o 14:00
D. o 14:30




Nu se completează de către elev

Punctaj	
Cod	

16. Deti umiestnili na dvere búdky každého zvierat'a špeciálnu tabuľku.

Napíš na určené miesto názov geometrického útvaru zodpovedajúceho tabuľke na búdke králika. (3b.)



Tabuľka na búdke králika má tvar _____ .

Nu se completează de către elev

Punctaj	
Cod	

17. Radu odmeral vzdialenosť od búdky králika po búdku papagájov.

Vyber jednotku merania, ktorou Radu meral vzdialenosť.

(5b.)

Zakrúžkuj písmeno zodpovedajúce správnej odpovedi.

- A. gram
- B. kilogram
- C. liter
- D. meter

Nu se completează de către elev

Punctaj	
Cod	

18. So súhlasom rodičov si Radu adoptoval šteniatko a dal mu meno Azorel. Chlapec chce pre Azorela kúpiť niekoľko vecí: **obojok, vôdzku, dve misky a prikrývku**. Ceny týchto vecí sú uvedené v nasledujúcej tabuľke.

<i>Vec</i>	<i>Cena</i>
Obojok	5 lei
Vôdzka	15 lei
Miska	13 lei
Prikrývka	34 lei

Radu má v pokladničke 80 lei. **Stačia mu peniaze na kúpu všetkého, čo si želá?**
Vysvetli tvoju odpoveď nižšie. (8b.)

[illegible]

Nu se completează de către elev

Punctaj	
Cod	

Punctaj total obținut	
------------------------------	--