



**EVALUAREA NAȚIONALĂ
LA FINALUL CLASEI a II-a
2026**

MATEMATICĂ ȘI EXPLORAREA MEDIULUI

TEST

Județul / sectorul

Localitatea

Unitatea de învățământ

Numele și prenumele elevei / elevului





.....

Clasa a II-a

ANIMALE DE COMPANIE

Copiii iubesc foarte mult animalele și le place să aibă grijă de ele.

Radu, Maria, Ionuț și Dana, elevi în clasa a II-a, obișnuiesc să meargă la un adăpost de animale și să ajute ca voluntari. În ultimul an, ei au îngrijit mai multe animale și au trecut numărul acestora într-un tabel asemănător cu cel de mai jos.

			
câini	pisici	iepuri	papagali
176	139	85	206

Pentru a îngriji cât mai bine animalele de la adăpost, cei patru copii au hotărât să adune cât mai multe informații legate de nevoile animalelor.

1. Maria le-a spus colegilor săi de ce au nevoie animalele, pentru a trăi.

Tu știi care sunt nevoile de bază ale animalelor?

(5p.)

Încercuiește litera corespunzătoare răspunsului corect.

- A. aer, căldură și hrană
- B. apă, aer și hrană
- C. apă, aer și sol hrănitor
- D. apă, lumină și aer

Nu se completează de către elev

Punctaj	
Cod	

2. Radu a comparat numărul pisicilor cu numărul câinilor pe care i-au îngrijit copiii.

Compară și tu!

(5p.)

Scrie, în caseta de mai jos, unul din semnele $<$, $>$, $=$ pentru ca relația să fie corectă.

139 176

Nu se completează de către elev

Punctaj	
Cod	

3. Dana a calculat câte animale au îngrijit în total cei patru prieteni în ultimul an.

Calculează și tu!

Scrie, pe spațiul dat, rezolvarea problemei.

(8p.)

[illegible]

Nu se completează de către elev

Punctaj	
Cod	

4. Ionuț a observat că la adăpost au fost îngrijiti 206 papagali.

Care sunt vecinii acestui număr?

Încercuiește litera corespunzătoare răspunsului corect.

(5p.)

- A.** 205 şı 206
B. 205 şı 207
C. 204 şı 205
D. 206 şı 207

Nu se completează de către elev

Punctaj	
Cod	

5. Cei patru copii au discutat despre modul în care se înmulțesc animalele de care au avut grijă.

Care animal se înmulțește prin ouă?

Încercuiește litera corespunzătoare răspunsului corect.

(5p.)

- A.** câinele
B. iepurele
C. papagalul
D. pisica

Nu se completează de către elev

Punctaj	
Cod	

6. Dana a calculat câți papagali și iepuri au fost în total la adăpost. Ea a scris următorul exercițiu **$206 + 85 = 291$** .

Verifică tu, prin operație inversă, dacă ea a calculat corect.

(6p.)

Scrie, pe spațiul dat, verificarea exercițiului.

[illegible]

Nu se completează de către elev





Punctaj	
Cod	

7. Într-o zi, Radu a avut grijă de 4 iepurași, așa că a adus câte 3 morcovi pentru fiecare iepuras. **Câți morcovi a adus Radu în total?**

Calculează rezultatul prin adunare repetată de termeni egali.

(7p.)

Scrie, pe spațiul dat, rezolvarea problemei.

[illegible]

Nu se completează de către elev

Punctaj	
Cod	

- 8. Maria a îngrijit papagalii din 6 colivii. În fiecare colivie erau câte 3 papagali.**

Câți papagali a îngrijit Maria în total?

(5p.)

Încercuiește litera corespunzătoare răspunsului corect.

- A.** 3
B. 6
C. 9
D. 18

B. 6

C. 9

D. 18

Nu se completează de către elev

Punctaj	
Cod	

- 9.** Ionuț a avut 20 de biscuiți, pe care i-a împărțit în mod egal câinilor care se jucau în curtea adăpostului. Dacă fiecare câine a primit câte 4 biscuiți, câți câini se jucau în curte?

Calculează rezultatul prin scădere repetată a aceluiași număr.

(7p.)

Scrie, pe spațiul dat, rezolvarea problemei.

[illegible]

Nu se completează de către elev

Punctaj	
Cod	

10. Cei patru copii au realizat un afiș pentru adăpostul la care fac voluntariat.
Cu ce figură geometrică se aseamănă rama afișului realizat de ei?
Încercuiește litera corespunzătoare răspunsului corect.

(5p.)

- A. cerc
- B. dreptunghi
- C. pătrat
- D. triunghi



Nu se completează de către elev

Punctaj	
Cod	

11. Afișul realizat de cei patru copii a atras atenția unui băiețel care îndrăgește papagalii.
În ce parte a imaginii se află cei doi papagali?
Încercuiește litera corespunzătoare răspunsului corect.

(5p.)

- A. în dreapta jos
- B. în dreapta sus
- C. în stânga jos
- D. în stânga sus



Nu se completează de către elev

Punctaj	
Cod	

12. Copiii au pregătit hrana pentru animale. Castroanele cu mâncare au fost așezate în ordine, în fața fiecărui animal, respectând regula din șirul de mai jos.

Observă regula. Ce animale urmează în șir?

(5p.)

Încercuiește litera corespunzătoare răspunsului corect.



A.



B.



C.



D.



Nu se completează de către elev

Punctaj	
Cod	

13. Într-o zi, la adăpost au ajuns 15 iepurași. Aceștia erau așezați, în mod egal, în 5 cuști.

Câți iepurași erau într-o cușcă?

(5p.)

Încercuiește litera corespunzătoare răspunsului corect.

A. 3

B. 10

C. 15

D. 20

Nu se completează de către elev

Punctaj	
Cod	

14. Dana a vrut să știe cu cât este mai mare numărul câinilor decât numărul pisicilor. Ea a scris următorul exercițiu **$176 - 139 = 37$** .

Verifică tu, prin operație inversă, dacă ea a calculat corect.

(6p.)

Scrie, pe spațiul dat, verificarea exercițiului.

[illegible]

Nu se completează de către elev

Punctaj	
Cod	


15. Sâmbătă, colegii celor patru copii au venit la adăpost să vadă animalele. Ei au sosit la ora 10:30 și au stat acolo timp de 3 ore.

La ce oră au plecat de la adăpost?

(5p.)

Încercuiește litera corespunzătoare răspunsului corect.

- A.** ora 13:00
B. ora 13:30
C. ora 14:00
D. ora 14:30




Nu se completează de către elev

Punctaj	
Cod	

16. Copiii au așezat pe ușa căsuței fiecărui animal câte o plăcuță specială.

Scrie, pe spațiul dat, numele formei geometrice corespunzătoare plăcuței pentru căsuța iepurașului. (3p.)



Plăcuța pentru căsuța iepurașului are formă de _____.

Nu se completează de către elev

Punctaj	
Cod	

17. Radu a măsurat distanța de la căsuța iepurașului până la căsuța papagalilor.

Alege unitatea de măsură cu care a măsurat Radu distanța.

(5p.)

Încercuiește litera corespunzătoare răspunsului corect.

- A. gramul
- B. kilogramul
- C. litrul
- D. metrul

Nu se completează de către elev

Punctaj	
Cod	

18. Cu acordul părinților, Radu a adoptat un câțeluș și i-a pus numele Azorel. Băiatul vrea să-i cumpere lui Azorel câteva lucruri: **o zgardă, o lesă, două castroane și o păturică**. Prețurile acestora sunt scrise în tabelul următor.

Obiect	Preț
Zgardă	5 lei
Lesă	15 lei
Castron	13 lei
Păturică	34 lei

Radu are în pușculiță 80 de lei. **Îi ajung banii să cumpere tot ce își dorește?**
Explică, în spațiul dat, răspunsul tău. (8p.)

(8p.)

Da, pentru că _____

Nu, pentru că _____

[illegible]

Nu se completează de către elev

Punctaj	
Cod	

Punctaj total obținut	
-----------------------	--