



**EVALUAREA NAȚIONALĂ
LA FINALUL CLASEI a II-a
2026**

MATEMATICĂ ȘI EXPLORAREA MEDIULUI

TEST

Județul / sectorul

Localitatea

Unitatea de învățământ

Numele și prenumele elevei / elevului


.....

Clasa a II-a

ANIMALI DOMESTICI

I bambini amano molto gli animali e si divertono a prendersene cura.

Radu, Maria, Ionuț e Dana, alunni di seconda elementare, di solito vanno in un rifugio per animali per dare una mano come volontari. Nell'ultimo anno si sono presi cura di diversi animali e ne hanno registrato il numero in una tabella simile a quella qui sotto.

			
cani	gatti	conigli	pappagalli
176	139	85	206

Per prendersi cura al meglio degli animali del rifugio, i quattro bambini hanno deciso di raccogliere quante più informazioni possibili sui loro bisogni.

1. Maria ha spiegato ai suoi colleghi di cosa hanno bisogno gli animali per vivere.

Conosci i bisogni fondamentali degli animali?

(5p.)

Cerchia la lettera corrispondente alla risposta corretta.

- A. aria, calore e cibo
- B. acqua, aria e cibo
- C. acqua, aria e terreno fertile
- D. acqua, luce e aria

Nu se completează de către elev

Punctaj	
Cod	

2. Radu ha confrontato il numero di gatti con il numero di cani di cui i bambini si prendevano cura.

Confronta anche tu!

(5p.)

Scrivi, nella casella sottostante, uno dei simboli $<$, $>$, $=$ in modo che la relazione sia corretta.

139

176

Nu se completează de către elev

Punctaj	
Cod	

3. Dana ha calcolato quanti animali hanno accudito in tuttol i quattro amici nell'ultimo anno

Calcola anche tu!

(8p.)

Scrivi, nello spazio apposito, la soluzione al problema.

[illegible]

Nu se completează de către elev

Punctaj	
Cod	

4. Ionut ha notato che nel rifugio venivano accuditi 206 pappagalli.

Chi sono i vicini di questo numero ?

(5p.)

Cerchia la lettera corrispondente alla risposta corretta.

- A.** 205 e 206
B. 205 e 207
C. 204 e 205
D. 206 e 207

Nu se completează de către elev

Punctaj	
Cod	

5. I quattro bambini hanno discusso di come si riproducono gli animali di cui si sono presi cura.

Quale animale si riproduce tramite uova?

(5p.)

Cerchia la lettera corrispondente alla risposta corretta.

- A.** Il cane
- B.** Il coniglio
- C.** Il pappagallo
- D.** Il gatto

Nu se completează de către elev

Punctaj	
Cod	

6. Dana ha calcolato quanti pappagalli e conigli c'erano in totale nel rifugio. Ha scritto il seguente esercizio **$206 + 85 = 291$** .

Verifica, tramite l'operazione inversa, se ha calcolato correttamente. (6p.)
Scrivi, nello spazio dato, la verifica dell'esercizio.





[illegible]

Nu se completează de către elev

Punctaj	
Cod	

7. Un giorno, Radu si prendeva cura di 4 coniglietti, quindi ha portato 3 carote per ciascuno di essi. **Quante carote ha portato Radu in totale?**

Calcola il risultato usando l'addizione ripetuta di termini uguali. (7p.)
Scrivi, nello spazio sottostante, la risoluzione del problema.

[illegible]

Nu se completează de către elev

Punctaj	
Cod	

- A.** 3
- B.** 6
- C.** 9
- D.** 18

Punctaj	
Cod	

- [illegible]

Punctaj	
Cod	

10. I quattro bambini hanno realizzato un poster per il rifugio dove fanno volontariato.
A quale figura geometrica assomiglia la cornice del poster che hanno realizzato? (5p.)

Cerchia la lettera corrispondente alla risposta corretta.

- A. cerchio
- B. rettangolo
- C. quadrato
- D. triangolo



Nu se completează de către elev

Punctaj	
Cod	

11. Il poster realizzato dai quattro bambini ha attirato l'attenzione di un ragazzino appassionato di pappagalli.

In quale parte dell'immagine si trovano i due pappagalli? (5p.)

Cerchia la lettera corrispondente alla risposta corretta.

- A. in basso a destra
- B. in alto a destra
- C. in basso a sinistra
- D. in alto a sinistra



Nu se completează de către elev

Punctaj	
Cod	

12. I bambini hanno preparato il cibo per gli animali. Le ciotole con il cibo sono state disposte in ordine, davanti a ciascun animale, rispettando la regola riportata nella riga sottostante.

Osservate la regola. Le ciotole i cui animali seguono in fila?

(5p.)

Cerchia la lettera corrispondente alla risposta corretta.



A.



B.



C.



D.



Nu se completează de către elev

Punctaj	
Cod	

13. Un giorno, al rifugio arrivarono 15 conigli. Furono divisi equamente in 5 gabbie..

Quanti conigli c'erano in una gabbia?

(5p.)

Cerchia la lettera corrispondente alla risposta corretta.

A. 3

B. 10

C. 15

D. 20

Nu se completează de către elev

Punctaj	
Cod	

14. Dana voleva sapere di quanto è maggiore il numero dei cani rispetto al numero dei gatti. Ha scritto il seguente esercizio $176 - 139 = 37$.

Verifica, tramite l'operazione inversa, se ha calcolato correttamente. (6p.)

Scrivi, nello spazio dato, la verifica dell'esercizio.

[illegible]

Nu se completează de către elev

Punctaj	
Cod	


15. Sabato, i compagni dei quattro bambini sono venuti al rifugio per vedere gli animali. Sono arrivati alle 10:30 e sono rimasti lì per 3 ore.

A che ora sono usciti dal rifugio?

(5p.)

Cerchia la lettera corrispondente alla risposta corretta.

- A.** Alle ore 13:00
B. Alle ore 13:30
C. Alle ore 14:00
D. Alle ore 14:30




Nu se completează de către elev

Punctaj	
Cod	

16. I bambini hanno collocato sulla porta della casetta di ogni animale una targa speciale.

Scrivi, nello spazio apposito, il nome della forma geometrica corrispondente al simbolo della casetta del coniglio. (3p.)



Il cartello per la casetta del coniglio ha la forma di _____ .

Nu se completează de către elev

Punctaj	
Cod	

17. Radu ha misurato la distanza tra la casa del coniglio e quella del pappagallo.

Scegli l'unità di misura con cui Radu ha misurato la distanza.

(5p.)

Cerchia la lettera corrispondente alla risposta corretta.

- A. grammo
- B. chilogrammo
- C. litro
- D. metro

Nu se completează de către elev

Punctaj	
Cod	

18. Con il consenso dei suoi genitori, Radu ha adottato un cucciolo e lo ha chiamato Azorel. Il bambino vuole comprare ad Azorel alcune cose: **un collare, un guinzaglio, due ciotole e una coperta**. I prezzi di questi articoli sono riportati nella tabella seguente.

<i>Obiect</i>	<i>Preț</i>
Collare	5 lei
Guinzaglio	15 lei
Ciotola	13 lei
Coperta	34 lei

Radu ha 80 lei nel suo salvadanaio. **Sono abbastanza soldi per comprare tutto ciò che desidera? Spiega la tua risposta nello spazio apposito.** (8p.)

[illegible]

Nu se completează de către elev

Punctaj	
Cod	

Punctaj total obținut	
------------------------------	--