



**EVALUAREA NAȚIONALĂ
LA FINALUL CLASEI a II-a
2026**

MATEMATICĂ ȘI EXPLORAREA MEDIULUI

TEST

Județul / sectorul

Localitatea

Unitatea de învățământ

Numele și prenumele elevei / elevului

.....

Clasa a II-a

HAUSTIERE

Die Kinder mögen die Tiere sehr und pflegen sie gerne.

Radu, Maria, Ionuț und Dana sind Schüler in der 2. Klasse. Sie helfen gerne im Tierheim mit. Letztes Jahr haben sie mehrere Tiere gepflegt und deren Anzahl in eine Tabelle eingetragen.

			
Hunde	Katzen	Hasen	Papageien
176	139	85	206

Um die Tiere besser pflegen zu können, haben sie mehrere Informationen über diese gesammelt.

1. Maria zählt ihren Kollegen auf, was die Tiere zum Leben brauchen.

Weißt du, was die Tiere brauchen?

(5P.)

Kreise den Buchstaben für die richtige Antwort ein.

- A. Luft, Wärme und Nahrung
- B. Wasser, Luft und Nahrung
- C. Wasser, Luft und fruchtbaren Boden
- D. Wasser, Licht und Luft

Nu se completează de către elev

Punctaj	
Cod	

2. Radu vergleicht die Anzahl der Katzen mit der Anzahl der Hunde.

Vergleiche auch du sie!

(5P.)

Schreibe in das Kästchen, eines der folgenden Zeichen <, =, >, so dass die Übung richtig ist.

139 176

Nu se completează de către elev





Punctaj	
Cod	

Rechne unten.

[illegible]

Punctaj	
Cod	

Berechne durch wiederholte Addition. Schreibe unten die Lösung der Aufgabe.

[illegible]

Punctaj	
Cod	

- 8. Maria pflegte die Papageien aus 6 Käfigen. In jedem Käfig waren je 3 Papageien. Wie viele Papageien pflegte Maria insgesamt ? (5P.)**
Kreise den Buchstaben für die richtige Antwort ein.

- A.** 3
- B.** 6
- C.** 9
- D.** 18

Nu se completează de către elev

Punctaj	
Cod	

- 9.** Ionuț hatte 20 Kekse, die er gleichmäßig an die Hunde im Hof verteilte. Wenn jeder Hund je 4 Kekse bekommen hat, wie viele Hunde spielten im Hof?
Berechne durch wiederholte Subtraktion. (7P.)
Schreibe unten die Lösung der Aufgabe.

[illegible]

Nu se completează de către elev

Punctaj	
Cod	

10. Die vier Kinder erstellten ein Plakat für das Tierheim.

Mit welcher geometrischen Figur ähnelt der Rahmen des Plakats?

(5P.)

Kreise den Buchstaben für die richtige Antwort ein.

- A. Kreis
- B. Rechteck
- C. Quadrat
- D. Dreieck



Nu se completează de către elev

Punctaj	
Cod	

11. Ein Junge, der Papageien mag, hat sich das Plakat angesehen.

Wo befinden sich die zwei Papageien im Bild?

(5P.)

Kreise den Buchstaben für die richtige Antwort ein.

- A. rechts unten
- B. rechts oben
- C. links unten
- D. links oben



Nu se completează de către elev

Punctaj	
Cod	

12. Die Kinder bereiten das Futter für die Tiere zu. Die Näpfe mit dem Futter werden vor jedes Tier wie im Bild unten hingestellt.

Finde die Regel. Die Näpfe welcher Tiere folgen in der Reihe?

(5P.)

Kreise den Buchstaben für die richtige Antwort ein.



A.



B.



C.



D.



Nu se completează de către elev

Punctaj	
Cod	

13. Eines Tages wurden 15 Häschen ins Tierheim gebracht. Diese wurden gleichmäßig in 5 Käfigen untergebracht. **Wie viele Häschen sind in einem Käfig?**

(5P.)

Kreise den Buchstaben für die richtige Antwort ein.

A. 3

B. 10

C. 15

D. 20

Nu se completează de către elev

Punctaj	
Cod	


Überprüfe mithilfe einer umgekehrten Rechenoperation, ob sie richtig gerechnet hat. (6P.)

[illegible]

Punctaj	
Cod	

Wann gingen sie aus dem Tierheim weg? (5P.)


A. um 13:00 Uhr
B. um 13:30 Uhr
C. um 14:00 Uhr
D. um 14:30 Uhr



Punctaj	
Cod	

16. Die Kinder brachten an die Tür jedes Tieres je ein Schild an.

Schreibe auf die Linie den Namen der geometrischen Figur für den Hasenkäfig.
(3P.)



Das Schild für den Hasenkäfig ist ein _____ .

Nu se completează de către elev

Punctaj	
Cod	

17. Radu hat die Entfernung von dem Hasenkäfig bis zum Käfig der Papageien gemessen.

Wähle die Maßeinheit für die Entfernung aus.

(5P.)

Kreise den Buchstaben für die richtige Antwort ein.

- A. Gramm
- B. Kilogramm
- C. Liter
- D. Meter

Nu se completează de către elev

Punctaj	
Cod	

18. Mit der Erlaubnis der Eltern hat Radu einen Hund aufgenommen. Er möchte für den Hund folgende Dinge kaufen: **ein Halsband, eine Leine, zwei Näpfe und eine Decke.** Die Preise dieser Dinge sind in der Tabelle angegeben.

<i>Ding</i>	<i>Preis</i>
Halsband	5 Lei
Leine	15 Lei
Napf	13 Lei
Decke	34 Lei

Radu hat 80 Lei gespart. **Reicht ihm das Geld, um alles zu kaufen, was er sich wünscht?**

Erkläre unten deine Antwort. (8P.)

(8P.)

[illegible]

Nu se completează de către elev

Punctaj	
Cod	

Gesamte Punktzahl	
--------------------------	--