



**EVALUAREA NAȚIONALĂ  
LA FINALUL CLASEI a II-a  
2025**

**Test**

**MATEMATICĂ ȘI EXPLORAREA MEDIULUI**

**Județul / sectorul** .....

**Localitatea** .....

**Unitatea de învățământ** .....

**Numele și prenumele elevei / elevului** .....

.....

**Clasa a II-a** .....



## СЕРЕДОВИЩЕ ЖИТТЯ

5 червня відзначається Всесвітній день навколишнього середовища, і учні другого класу хочуть організувати виставку своїх малюнків.

Ана, Давид, Міруна і Тудор запропонували розмістити малюнки в чотири групи, що представляють різні життєві середовища.

У наведеній нижче таблиці наведено номери проектів, вибраних для кожного середовища.



|     |         |              |                 |
|-----|---------|--------------|-----------------|
| Ліс | Пустеля | Дельта Дунаю | Південний полюс |
| 173 | 87      | 95           | 102             |

1. Ана порівняла кількість малюнків, вибраних для групи **Ліс**, із кількістю малюнків, вибраних для групи **Південного полюса**. Порівняй їх і ти! (5 балів)

Напиши у полі нижче один із знаків  $<$ ,  $=$ ,  $>$ , щоб зв'язок був правильним.

|     |  |     |
|-----|--|-----|
| 173 |  | 102 |
|-----|--|-----|

*Nu se completează de către elev*

|         |  |
|---------|--|
| Punctaj |  |
| Cod     |  |

**2. Давід обчислив суму малюнків, вибраних для *Пустелі* та *Дельти Дунаю*.**

## Порахуй теж!

**(20 балів)**

**Напиши у відведеному місці розв'язання задачі.**

[illegible]

Nu se completează de către elev

|         |  |
|---------|--|
| Punctaj |  |
| Cod     |  |

**3. Тудор помітив, що на одній із панелей, обраних для *Пустелі*, намальовано більше пальм, як на зображенні нижче. Скільки всього пальм було намальовано на панелі? Обчислюється повторним додаванням рівних доданків. (10 балів)**  
**Напиши у відведеному місці розв'язання задачі.**

[illegible]

*Nu se completează de către elev*

|         |  |
|---------|--|
| Punctaj |  |
| Cod     |  |

4. Вибираючи малюнки для **Південного полюса**, Міруна сказала колегам, що пінгвін може з'їсти 3 кг риби за день. Скільки кілограмів риби може з'їсти пінгвін за 7 днів?  
**Обведи кружечком букву, яка відповідає правильній відповіді. (5 балів)**

- A.** 3 кг
- B.** 4 кг
- C.** 10 кг
- D.** 21 кг

*Nu se completează de către elev*

|         |  |
|---------|--|
| Punctaj |  |
| Cod     |  |

**5.** Знаючи, що Ана розмістила на панелях 28 малюнків тварин із **Південного полюса** і що на кожній панелі було по 7 малюнків, скільки панелей використала Ана?

**Обчисли, віднімаючи одне й те саме число.**

**(12 балів)**

**Напиши у відведеному місці розв'язання задачі.**

A large grid of graph paper with 20 columns and 10 rows. The grid is composed of small squares, with a slightly larger square at the top left corner, likely for a title or header. The grid is empty and ready for use.

*Nu se completează de către elev*

|         |  |
|---------|--|
| Punctaj |  |
| Cod     |  |

6. Давид зробив малюнок із тваринами з *Дельти Дунаю*.

**Яку геометричну фігуру нагадує аркуш, який намалював Давид? (5 балів)**

Обведи кружечком букву, яка відповідає правильній відповіді.






- A.** коло  
**B.** прямокутник  
**C.** квадрат  
**D.** трикутник



*Nu se completează de către elev*

|         |  |
|---------|--|
| Punctaj |  |
| Cod     |  |

7. Міруна розмістила зображення птахів із **Дельти Дунаю**, дотримуючись правила у рядку нижче. Які зображення йдуть у послідовності? (5 балів)  
Обведи кружечком букву, яка відповідає правильній відповіді.



Nu se completează de către elev

|         |  |
|---------|--|
| Punctaj |  |
| Cod     |  |

8. Скільки стін буде покрито 24 малюнками з **Пустелі**, знаючи, що на кожній стіні поміститься 6 малюнків? (5 балів)  
Обведи кружечком букву, яка відповідає правильній відповіді.

- A. 4
- B. 10
- C. 18
- D. 30

Nu se completează de către elev

|         |  |
|---------|--|
| Punctaj |  |
| Cod     |  |

9. Тудор зробив плакат для **Лісу**. У якій частині плаката зображені зайчики?  
Обведи кружечком букву, яка відповідає правильній відповіді. (5 балів)




- A. зверху справа  
B. унизу справа  
C. зверху зліва  
D. унизу зліва

*Nu se completează de către elev*

|         |  |
|---------|--|
| Punctaj |  |
| Cod     |  |

10. Для кожного середовища діти виготовили бейдж і наклеїли на картки різних геометричних форм зображення відповідної тварини.

Напиши на відведеному місці назву геометричної фігури картки, на якій наклеєно зображення верблюда — тварини, що мешкає в **Пустелі**. (3 бали)



Картка, на якій наклеєно зображення верблюда, має форму \_\_\_\_\_

*Nu se completează de către elev*

|         |  |
|---------|--|
| Punctaj |  |
| Cod     |  |

**Обведи кружечком букву, яка відповідає правильній відповіді.**

- Nu se completează de către elev*

Чи достатньо зірок для всіх малюнків, вибраних для чотирьох середовищ життя?

**Поясни свою відповідь у відведеному місці. (20 балів)**

|            |                |                     |                        |
|------------|----------------|---------------------|------------------------|
| <b>Ліс</b> | <b>Пустеля</b> | <b>Дельта Дунаю</b> | <b>Південний полюс</b> |
| <b>173</b> | <b>87</b>      | <b>95</b>           | <b>102</b>             |

**Так, тому що** \_\_\_\_\_

**Ні, тому що** \_\_\_\_\_

[illegible]



